


**Latihan Soal PTS**  
**Matematika Kelas 1, Tema 1-2**

**A** Isilah dengan jawaban singkat, jika soal berupa benda jangan lupa dicoret setelah menghitung ya.. !


1. Banyak jumlah anak perempuan ada ....



2. Jumlah jari yang berdiri ada ....



3. Lambang bilangan yang sesuai dengan banyak buku adalah ....



4. Nama bilangan yang sesuai dengan banyak jeruk di bawah ini adalah ....



5. Kata pembandingan yang tepat untuk mengisi titik-titik di bawah ini adalah ...



6. Kata pembandingan yang tepat untuk mengisi titik-titik di bawah ini adalah ....

**8** ..... **8**

7. Angka yang tepat untuk mengisi kotak yang kosong di bawah ini adalah ....

.....	<b>6</b>
-------	----------

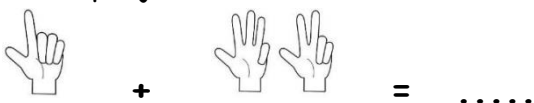
8. Angka yang tepat untuk mengisi kotak yang kosong di bawah ini adalah ....

<b>8</b>	.....
----------	-------

9. Angka yang tepat untuk mengisi kotak yang kosong di bawah ini adalah ....

<b>6</b>	...	<b>8</b>
----------	-----	----------

10. Hasil penjumlahan di bawah ini adalah ....



B Isilah dengan jawaban benar, dilingkari kata kuncinya ya !

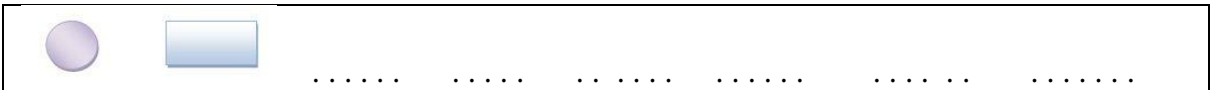
11. Aqila memiliki 6 sepatu  
2 sepatunya diberikan kepada tetangga  
Berapa sisa sepatu milik Aqila ?

Jadi, sisa sepatu milik Aqila ada ...


12. Khanza mempunyai 8 permen  
Khanza membeli lagi 5 permen  
Berapa jumlah permen Khanza sekarang ?

Jadi, jumlah permen Khanza sekarang ada ...

13. Isilah pola dengan benar !



14. Isilah pola dengan benar !



15. Berikut ini isilah nama bangun ruang yang tepat !

Benda di sekitar	Nama bangun ruang
	
	
	
	

**Semangat Belajar Anak Hebat  
Semoga Kemudahan Menyertai!**